

بِسْمِ اللّٰهِ الرَّحْمٰنِ الرَّحِیْمِ ○



برائے جماعت اوّل



پنجاب کریکولم اینڈ ٹیکسٹ بک بورڈ، لاہور

جملہ حقوق بحق پنجاب کریکولم اینڈ ٹیکسٹ بک بورڈ، لاہور محفوظ ہیں۔

اس کتاب کا کوئی حصہ نقل یا ترجمہ نہیں کیا جاسکتا اور نہ ہی اسے ٹیسٹ پیپر، گائیڈ بکس، خلاصہ جات، نوٹس یا امدادی کتب کی تیاری میں استعمال کیا جاسکتا ہے۔

مصنفین

- فہیم حسین، سینئر ماہر مضمون (ریاضی)، پنجاب کریکولم اینڈ ٹیکسٹ بک بورڈ، لاہور
- محمد خالد صدیقی، معاون ماہر مضمون (ریاضی)، پنجاب کریکولم اینڈ ٹیکسٹ بک بورڈ، لاہور

جائزہ کمیٹی :

بین الاقوامی ماہرین کا پینل

نظر ثانی کمیٹی برائے NOC

- پروفیسر ڈاکٹر عبدالرؤف شکوری، ڈائریکٹر سکول آف بائیولوجیکل سائنسز، پنجاب یونیورسٹی، لاہور
- محمد شکور، سابق پرنسپل، کریسٹ ماڈل ہائر سیکنڈری سکول، شادمان، لاہور
- ظفر مہدی ظفر، سینئر سائنس ٹیچر (ریٹائرڈ)، ڈیویڈنل پبلک سکول، ماڈل ٹاؤن، لاہور۔

کمپوزنگ اینڈ لے آؤٹ ڈیزائننگ • حافظ انعام الحق • محمد اعظم

آرٹسٹ • عائشہ وحید

ڈائریکٹر (مینوسکرپٹس) • مسز نثار قمر

زیرنگرانی • محمد اختر شیرانی


ناشر • پنجاب کریکولم اینڈ ٹیکسٹ بک بورڈ، لاہور

پیش لفظ

ریاضی کی یہ کتاب جماعت اول کے لیے تیار کی گئی ہے۔ اس کتاب کی تیاری کے ابتدائی مرحلے میں نصاب 2006ء میں طے شدہ حاصلاتِ تعلیم (SLOs) کو ان سے متعلقہ تمام ٹولز یعنی کتاب، سامان تدریس، تدریسی منصوبہ جات، آزمائشی سرگرمیوں اور ہم نصابی سرگرمیوں کے ذریعے بروئے کار لانے کی نصابی تاکید پر عمل کیا گیا۔ ہر ٹول کے لیے حاصلاتِ تعلیم کو مخصوص کیا گیا۔ کتاب سے متعلقہ ترجیحی حاصلاتِ تعلیم (Prioritized SLOs) کی روشنی میں اس کتاب کا مسودہ تیار کیا گیا جسے ماہرینِ نصاب اور درسی کتب کی کمیٹی کے سامنے نظر ثانی کے لیے پیش کیا گیا۔ نظر ثانی کمیٹی کی تجاویز و ہدایات کی روشنی میں مسودے کو حتمی شکل دی گئی۔ نظر ثانی کمیٹی نے اپنی ہدایات پر عمل درآمد کو یقینی پا کر مسودے کو بچوں کی ذہنی سطح اور ترجیحی حاصلاتِ تعلیم کے مطابق قرار دے دیا۔ نظر ثانی کمیٹی کی سفارش پر مجاز اتھارٹی نے کتاب کی اشاعت کی منظوری دے دی۔

کتاب کا تجرباتی ایڈیشن برائے تعلیمی سال 18-2017 اشاعت کے بعد آپ کے ہاتھ میں ہے۔ کتاب کی مزید بہتری کے لیے آپ کی تجاویز اور قیمتی آرا کا انتظار رہے گا۔


مصنفین



نمبر شمار	عنوان	صفحہ
۱	چیزوں کا موازنہ اور پوزیشنز	۱ تا ۱۱
۲	گنتی ۱ تا ۹	۱۲ تا ۱۹
۳	نمبروں کی ترتیب، نمبروں کا موازنہ، اگلا اور پچھلا نمبر	۲۰ تا ۲۷
۴	صفر کا تصور	۲۸ تا ۲۹
۵	جمع	۳۰ تا ۳۴
۶	تفریق	۳۵ تا ۴۱
۷	دہائیوں کا تصور	۴۲ تا ۴۳
۸	۱۱ سے ۱۰۰ تک گنتی	۴۴ تا ۷۴
۹	جمع اور تفریق	۷۵ تا ۸۵
۱۰	اشکال	۸۶ تا ۸۹
۱۱	وقت اور ہفتے کے دن	۹۰ تا ۹۳
۱۲	رقم	۹۴ تا ۹۶

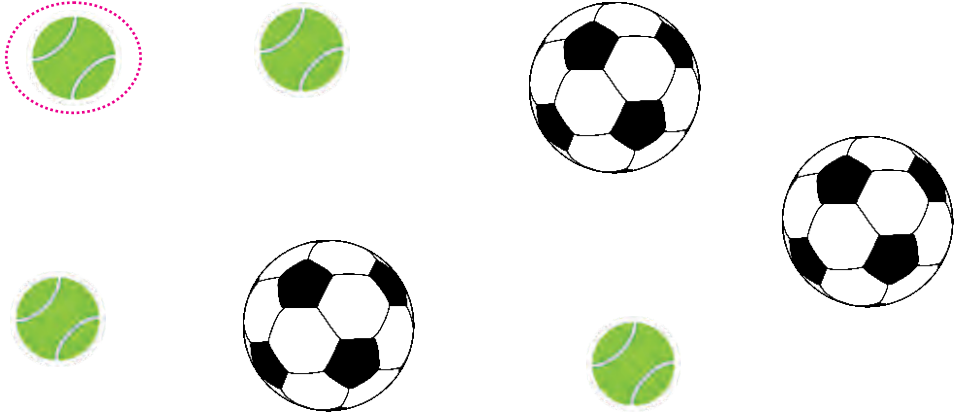


ایک جیسی چیزوں کو آپس میں ملائیں۔

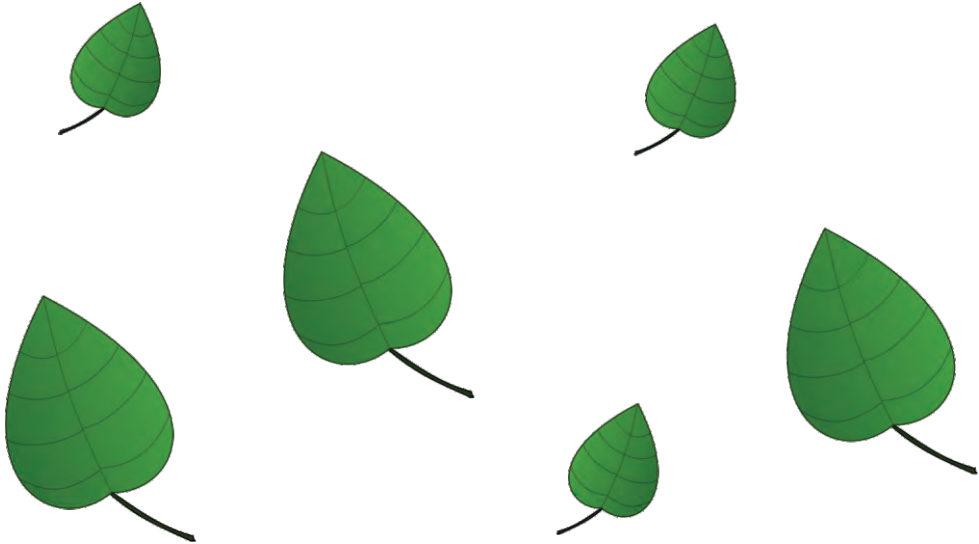




چھوٹی گیندوں کے گرد دائرہ لگائیں۔


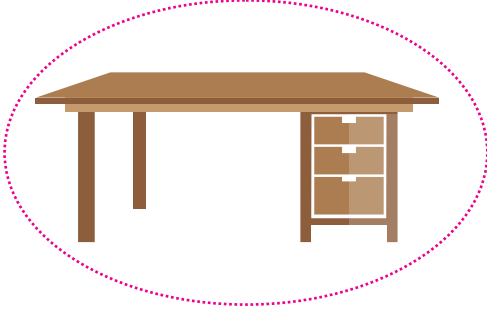


بڑے پتوں کے گرد دائرہ لگائیں۔

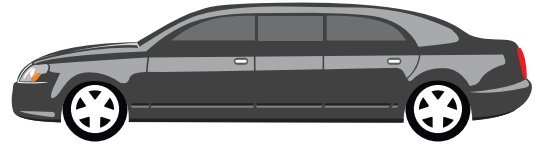





لمبی چیز کے گرد دائرہ لگائیں۔




چھوٹی چیز کے گرد دائرہ لگائیں۔






چھوٹی چیز کے گرد دائرہ لگائیں۔





لمبی چیز کے گرد دائرہ لگائیں۔






ترازو کے بھاری پلڑے کے گرد دائرہ لگائیں۔




ترازو کے ہلکے پلڑے کے گرد دائرہ لگائیں۔





بچے سے نزدیک گاڑی کے گرد دائرہ لگائیں۔



گھر سے دُور گائے کے گرد دائرہ لگائیں۔






تاریخ _____



لمبی چیز کے گرد دائرہ لگائیں۔



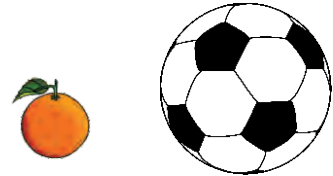
درخت سے دُور چیز کے گرد دائرہ لگائیں۔

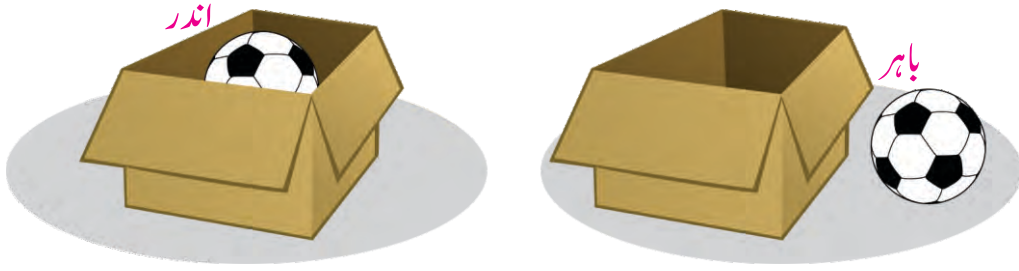



لمبی چیز کے گرد دائرہ لگائیں۔




چھوٹی چیز کے گرد دائرہ لگائیں۔




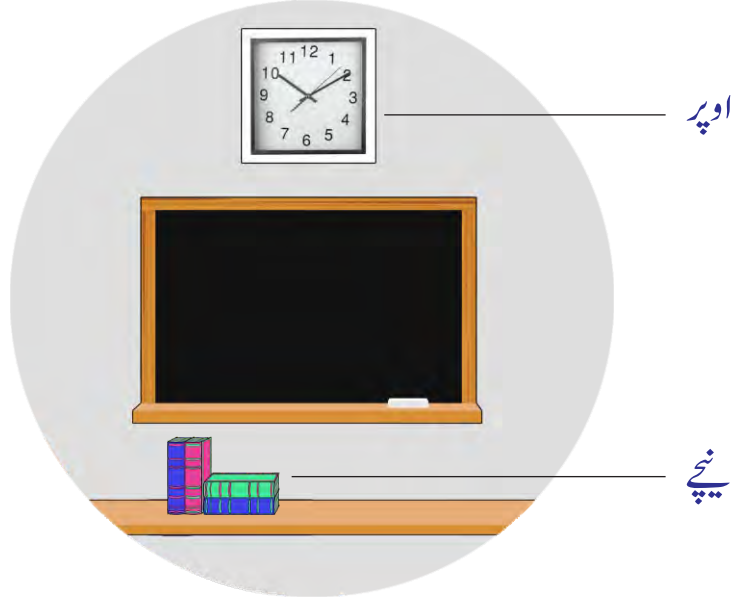


جس تصویر میں چیزیں پنسل باکس سے باہر ہیں، اُس پر (✓) کا نشان لگائیں۔




جس تصویر میں بنٹے بوتل کے اندر ہیں، اُس پر (✓) کا نشان لگائیں۔





کشتی سے نیچے والی اشیاء کے گرد دائرہ لگائیں۔

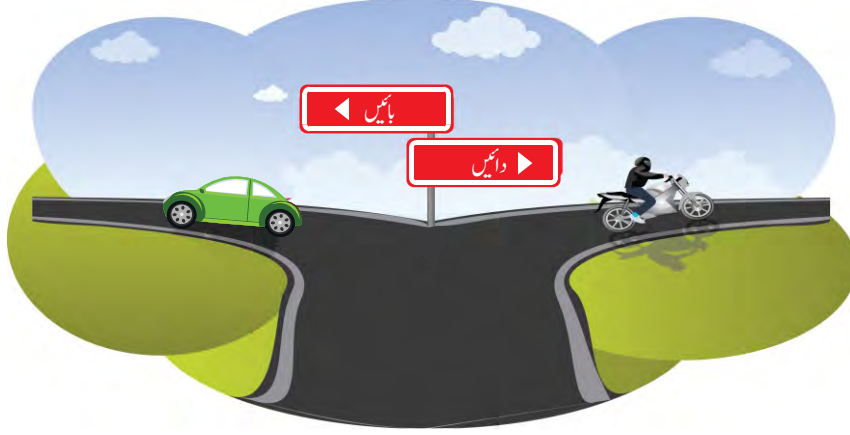


گھڑی سے اوپر والی تصویر پر (✓) کا نشان لگائیں۔





گاڑی بائیں طرف جارہی ہے اور موٹر سائیکل دائیں طرف۔



بایاں ہاتھ



دایاں ہاتھ



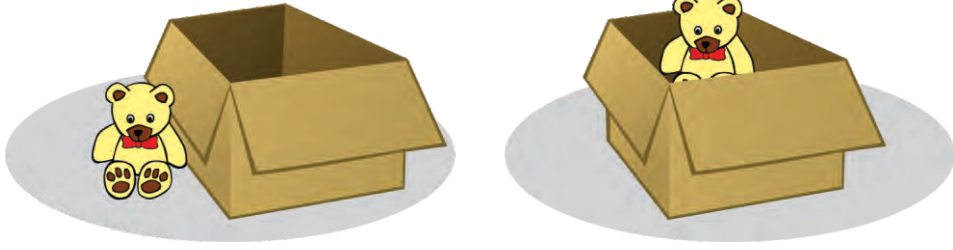
دائیں ہاتھ والی ٹوکری کے ساتھ سٹر ابری اور بائیں ہاتھ والی ٹوکری کے ساتھ پھول ملائیں۔



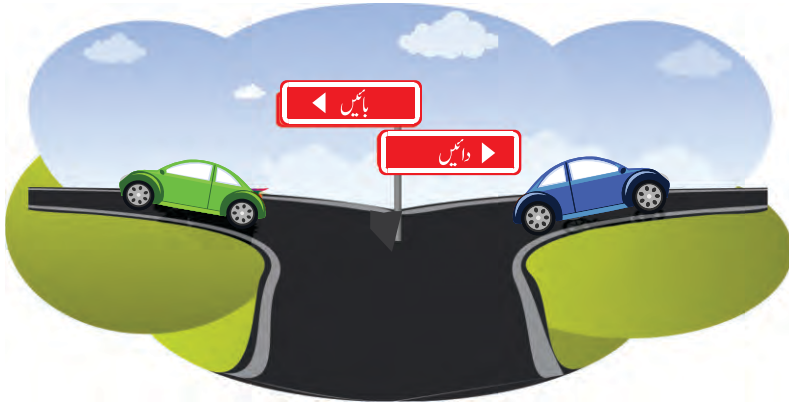


تاریخ _____

جس تصویر میں چیز ڈبے کے اندر ہے اُس پر (✓) کا نشان لگائیں۔



جو گاڑی دائیں طرف جارہی ہے اُس کے گرد دائرہ لگائیں۔



بلیک بورڈ کے اوپر والی چیز کے گرد دائرہ لگائیں۔






نقاط ملا کر نمبر لکھیں۔



نمبر لکھیں اور اتنی لائنیں بنائیں۔



نقاط ملا کر نمبر لکھیں۔




نمبر لکھیں اور اتنی لائنیں بنائیں۔





3



نقاط ملا کر نمبر لکھیں۔



3

3

3

3


3

3

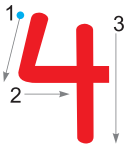
نمبر لکھیں اور اتنی لائنیں بنائیں۔



4



نقاط ملا کر نمبر لکھیں۔



4

4

4

4

4

4

نمبر لکھیں اور اتنی لائنیں بنائیں۔



5



نقاط ملا کر نمبر لکھیں۔




5 5 5 5 5 5

نمبر لکھیں اور اتنی لائنیں بنائیں۔



6



نقاط ملا کر نمبر لکھیں۔









6 6 6 6 6 6

نمبر لکھیں اور اتنی لائنیں بنائیں۔









تاریخ _____

چیزوں کی تعداد گن کر درست نمبر سے ملائیں۔

	5
	6
	3
	1
	2
	4


انگلیاں گن کر دی گئی جگہ پر درست نمبر لکھیں۔

					
2					

نمبر 1 تا 6 کو درست ترتیب میں لکھیں۔



7




نقاط ملا کر نمبر لکھیں۔



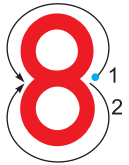
نمبر لکھیں اور اتنی لائنیں بنائیں۔



8



نقاط ملا کر نمبر لکھیں۔



نمبر لکھیں اور اتنی لائنیں بنائیں۔





9

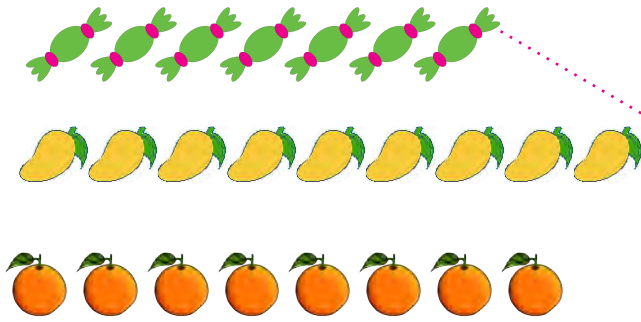


نقاط ملا کر نمبر لکھیں۔



نمبر لکھیں اور اتنی لائنیں بنائیں۔

چیزوں کی تعداد گن کر درست نمبر سے ملائیں۔



9

8

7

انگلیاں گن کر دی گئی جگہ پر درست نمبر لکھیں۔





تاریخ _____

چیزوں کی تعداد گن کر درست نمبر کے گرد دائرہ لگائیں۔



4

3

1



7

2

6



9

5

8



6

7

5



8

3

5

۱ سے ۹ تک گنتی لکھیں۔

_____	_____	_____
_____	_____	_____
_____	_____	_____

دستخط _____



گنتیں اور نمبر پڑھیں۔

	۱	ایک
	2	دو
	3	تین
	4	چار
	5	پانچ
	6	چھ
	7	سات
	8	آٹھ
	۹	نو



اوپر سے شروع کریں، چیزوں کی تعداد گنتیں اور ڈبے میں نمبر لکھیں۔






اوپر سے شروع کریں، چیزوں کی تعداد گنیں اور ڈبے میں نمبر لکھیں۔



۹





دی گئی جگہ پر اگلا نمبر لکھیں۔

2	3	4
---	---	---

4	5	___
---	---	-----

7	8	___
---	---	-----

5	6	___
---	---	-----

دی گئی جگہ پر پچھلا نمبر لکھیں۔

1	2	3
---	---	---

___	5	6
-----	---	---

___	7	8
-----	---	---

___	4	5
-----	---	---

دی گئی جگہ پر درمیان والا نمبر لکھیں۔

7	8	9
---	---	---



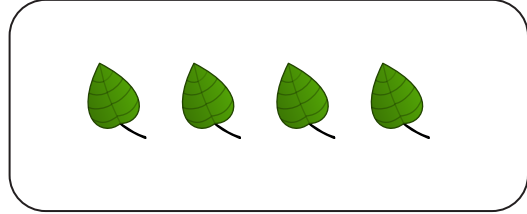

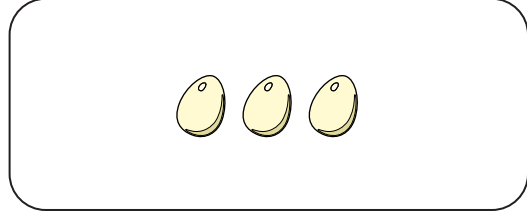
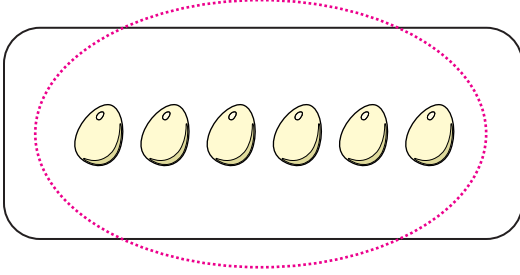
2	___	4
---	-----	---

1	___	3
---	-----	---

5	___	7
---	-----	---



جس ڈبے میں زیادہ چیزیں ہیں، اُس کے گرد دائرہ لگائیں۔





بڑے نمبر کے گرد دائرہ لگائیں۔

6 , 3

4 , 9

3 , 5

1 , 4

5 , 2

6 , 9

4 , 8

7 , 2

8 , 9

چھوٹے نمبر کے گرد دائرہ لگائیں۔

5 , 2

6 , 4

3 , 1

3 , 8


2 , 6

4 , 5

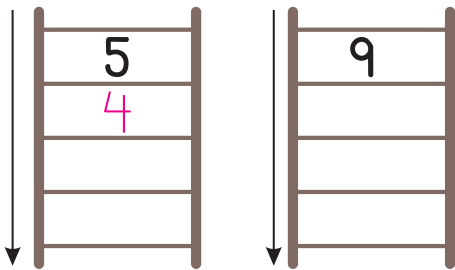
7 , 8

9 , 6

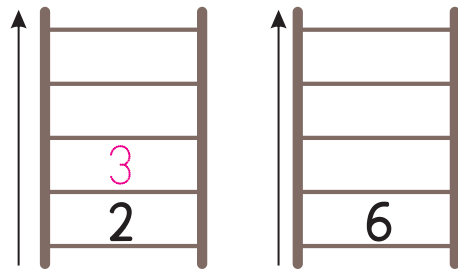
7 , 9



اُلٹی گنتی کرتے ہوئے نمبر لکھیں۔



سیدھی گنتی کرتے ہوئے نمبر لکھیں۔





دیے گئے نمبروں کو چھوٹے سے بڑے میں ترتیب دیں۔

3 , 1 , 5

1

3

5

5 , 9 , 6

4 , 7 , 2

دیے گئے نمبروں کو بڑے سے چھوٹے میں ترتیب دیں۔

4 , 1 , 2

4

2

1

8 , 9 , 3

6 , 7 , 5

جائزہ

تاریخ _____

سیدھی گنتی کریں اور خالی جگہ پر نمبر لکھیں۔

1	2	3			6
---	---	---	--	--	---

4				8	
---	--	--	--	---	--

اُلٹی گنتی کریں اور خالی جگہ پر نمبر لکھیں۔

5	4				1
---	---	--	--	--	---

8					4
---	--	--	--	--	---

خالی جگہ پر نمبر لکھیں۔

اگلا نمبر


6	_____
8	_____

درمیان والا نمبر


3	_____	5
6	_____	8

پچھلا نمبر


_____	5
_____	7




3




5




0




2




0




5



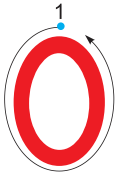
0



3




4




نقاط ملا کر نمبر لکھیں۔






چیزیں گن کر، ان کو درست نمبر سے ملائیں۔




5




6



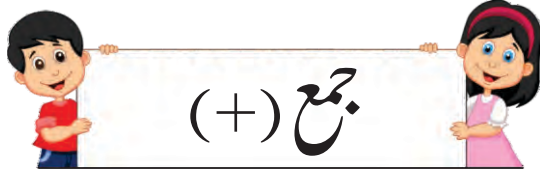
4



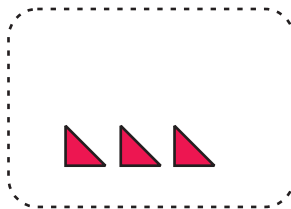
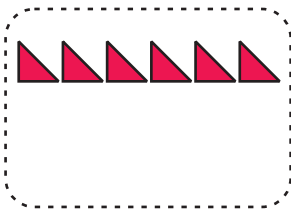
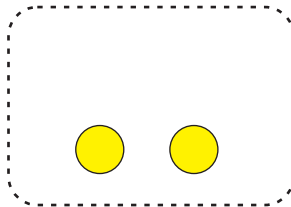
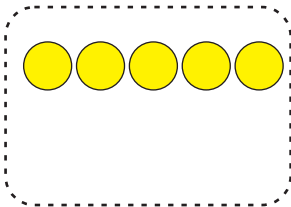
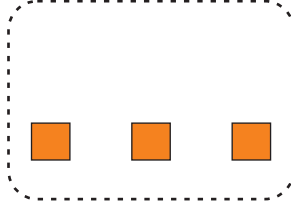
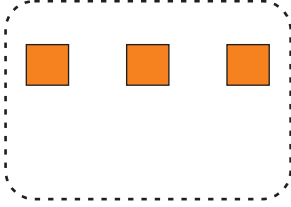
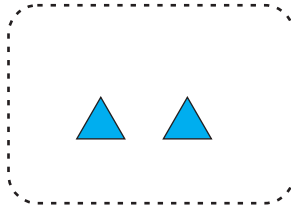
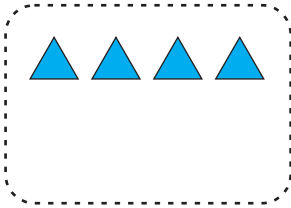
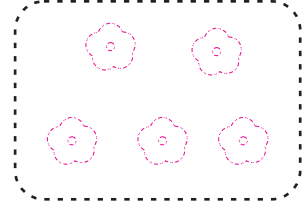


0

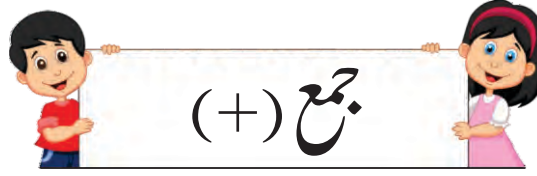


7



چیزیں گنیں، جمع کریں اور خالی ڈبے میں چیزیں بنائیں۔





چیزیں گنیں، نمبر لکھیں اور جمع کریں۔

$$\begin{array}{r} \boxed{3} \text{ ☆☆☆} \\ + \boxed{1} \text{ ☆} \\ \hline \boxed{4} \text{ ☆☆☆☆} \end{array}$$

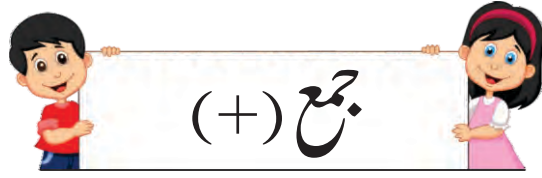
$$\begin{array}{r} \boxed{} \text{ 🍌🍌🍌🍌🍌} \\ + \boxed{} \text{ 🍌🍌🍌🍌} \\ \hline \boxed{} \text{ 🍌🍌🍌🍌🍌🍌🍌🍌🍌} \end{array}$$

$$\begin{array}{r} \boxed{} \text{ 🦋🦋🦋} \\ + \boxed{} \text{ 🦋🦋} \\ \hline \boxed{} \text{ 🦋🦋🦋🦋🦋🦋} \end{array}$$

$$\begin{array}{r} \boxed{} \text{ 🍓🍓🍓🍓} \\ + \boxed{} \text{ 🍓🍓🍓} \\ \hline \boxed{} \text{ 🍓🍓🍓🍓🍓🍓🍓🍓} \end{array}$$

$$\begin{array}{r} \boxed{} \text{ 🍊🍊🍊} \\ + \boxed{} \text{ 🍊🍊🍊} \\ \hline \boxed{} \text{ 🍊🍊🍊🍊🍊🍊} \end{array}$$

$$\begin{array}{r} \boxed{} \text{ 🍏🍏🍏🍏🍏🍏} \\ + \boxed{} \text{ 🍏🍏} \\ \hline \boxed{} \text{ 🍏🍏🍏🍏🍏🍏🍏🍏} \end{array}$$



لائسنس بنا کر مندرجہ ذیل سوال حل کریں۔

$$\begin{array}{r} 3 \quad /// \\ + 2 \quad // \\ \hline 5 \quad ///// \end{array}$$

$$\begin{array}{r} 4 \\ + 1 \\ \hline \end{array}$$

$$\begin{array}{r} 3 \\ + 4 \\ \hline \end{array}$$

$$\begin{array}{r} 4 \\ + 2 \\ \hline \end{array}$$

$$\begin{array}{r} 5 \\ + 3 \\ \hline \end{array}$$

$$\begin{array}{r} 3 \\ + 3 \\ \hline \end{array}$$

$$\begin{array}{r} 7 \\ + 2 \\ \hline \end{array}$$

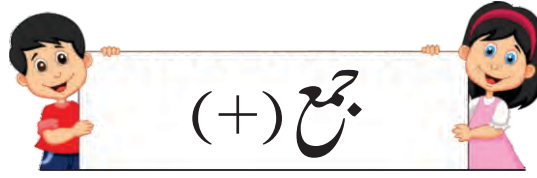
$$\begin{array}{r} 8 \\ + 1 \\ \hline \end{array}$$

$$\begin{array}{r} 2 \\ + 5 \\ \hline \end{array}$$

$$\begin{array}{r} 5 \\ + 4 \\ \hline \end{array}$$

$$\begin{array}{r} 6 \\ + 2 \\ \hline \end{array}$$

$$\begin{array}{r} 3 \\ + 6 \\ \hline \end{array}$$



لائسنس بنا کر سوال حل کریں۔

||| || |||||

$$3 + 2 = 5$$

$$2 + 1 =$$

$$4 + 2 =$$

$$5 + 1 =$$

$$4 + 3 =$$

$$3 + 3 =$$

$$6 + 1 =$$

$$8 + 1 =$$

$$7 + 2 =$$

$$3 + 6 =$$



تاریخ

دیے گئے سوال حل کریں۔

$$\begin{array}{r} 5 \text{ // // // } \\ + 3 \text{ // } \\ \hline \end{array}$$

$$\begin{array}{r} 7 \\ + 1 \\ \hline 8 \end{array}$$

$$\begin{array}{r} 2 \\ + 2 \\ \hline \end{array}$$

$$\begin{array}{r} 3 \\ + 6 \\ \hline \end{array}$$

$$\begin{array}{r} 4 \\ + 2 \\ \hline \end{array}$$

$$\begin{array}{r} 1 \\ + 8 \\ \hline \end{array}$$

چیزیں گن کر درست نمبر لکھیں، انہیں جمع کریں اور درست نمبر کے گرد دائرہ لگائیں۔



3

+



2

=

5

,

8

,

3



+



=

4

,

7

,

8



+



=

3

,

5

,

8



+



=

9


,

2

,

7

دستخط



چیزیں کاٹ کر تفریق کریں۔

$$\begin{array}{r} 4 \text{ 🍌 🍌 🍌 🍌} \\ - 2 \\ \hline 2 \end{array}$$

$$\begin{array}{r} 5 \text{ 🍎 🍎 🍎 🍎 🍎} \\ - 2 \\ \hline \end{array}$$

$$\begin{array}{r} 8 \text{ 🐝 🐝 🐝 🐝 🐝 🐝 🐝 🐝} \\ - 4 \\ \hline \end{array}$$


$$\begin{array}{r} 6 \text{ 🍆 🍆 🍆 🍆 🍆 🍆} \\ - 3 \\ \hline \end{array}$$

$$\begin{array}{r} 7 \text{ 🍬 🍬 🍬 🍬 🍬 🍬 🍬} \\ - 5 \\ \hline \end{array}$$

$$\begin{array}{r} 7 \text{ 🌿 🌿 🌿 🌿 🌿 🌿 🌿} \\ - 4 \\ \hline \end{array}$$

$$\begin{array}{r} 8 \text{ 🥚 🥚 🥚 🥚 🥚 🥚 🥚 🥚} \\ - 5 \\ \hline \end{array}$$

$$\begin{array}{r} 9 \text{ 🍎 🍎 🍎 🍎 🍎 🍎 🍎 🍎 🍎} \\ - 3 \\ \hline \end{array}$$



لائنیں بنا کر تفریق کریں۔

$$\begin{array}{r} 5 \\ - 2 \\ \hline 3 \end{array}$$

$$\begin{array}{r} 4 \\ - 2 \\ \hline \end{array}$$

$$\begin{array}{r} 3 \\ - 2 \\ \hline \end{array}$$

$$\begin{array}{r} 4 \\ - 3 \\ \hline \end{array}$$

$$\begin{array}{r} 7 \\ - 1 \\ \hline \end{array}$$

$$\begin{array}{r} 6 \\ - 4 \\ \hline \end{array}$$

$$\begin{array}{r} 6 \\ - 2 \\ \hline \end{array}$$


$$\begin{array}{r} 8 \\ - 5 \\ \hline \end{array}$$

$$\begin{array}{r} 7 \\ - 5 \\ \hline \end{array}$$

$$\begin{array}{r} 8 \\ - 6 \\ \hline \end{array}$$

$$\begin{array}{r} 9 \\ - 3 \\ \hline \end{array}$$

$$\begin{array}{r} 8 \\ - 2 \\ \hline \end{array}$$



لائنیں بنا کر تفریق کریں۔



$$5 - 2 = 3$$

$$6 - 4 =$$

$$9 - 4 =$$


$$7 - 4 =$$

$$6 - 2 =$$


$$5 - 3 =$$

$$7 - 2 =$$

$$9 - 5 =$$



نمبر لکھیں، تفریق کریں اور درست نمبر کے گرد دائرہ لگائیں۔



 - 2 = 4 , 3 , 1




 - 3 = 3 , 9 , 6




 - 5 = 6 , 3 , 4

کٹی ہوئی چیزوں کی تعداد گنیں، نمبر لکھیں اور تفریق کریں۔



 7 - =



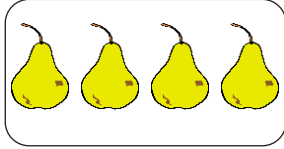
 8 - =



صفر کے ساتھ جمع اور تفریق



جمع کے سوال حل کریں۔



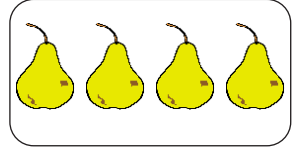
4

+



0

=



4



3

+



0

=



9

+



0

=



5

+




0

=



تفریق کے سوال حل کریں۔




2

-



0

=



2



7

-



0

=



6

-



0

=



8

-



0

=





تاریخ _____

لائسنس بنا کر جمع کریں۔

||| ||

$$3 + 2 = \boxed{5}$$

$$4 + 3 = \boxed{}$$

$$7 + 0 = \boxed{}$$

$$6 + 3 = \boxed{}$$

$$\begin{array}{r} 3 \\ + 5 \\ \hline \\ \hline \end{array}$$

$$\begin{array}{r} 7 \\ + 2 \\ \hline \\ \hline \end{array}$$

$$\begin{array}{r} 5 \\ + 4 \\ \hline \\ \hline \end{array}$$

لائسنس بنا کر تفریق کریں۔

||| | |
 /

$$5 - 3 = \boxed{2}$$

$$8 - 4 = \boxed{}$$

$$9 - 5 = \boxed{}$$


$$6 - 0 = \boxed{}$$

$$\begin{array}{r} 7 \\ - 5 \\ \hline \\ \hline \end{array}$$

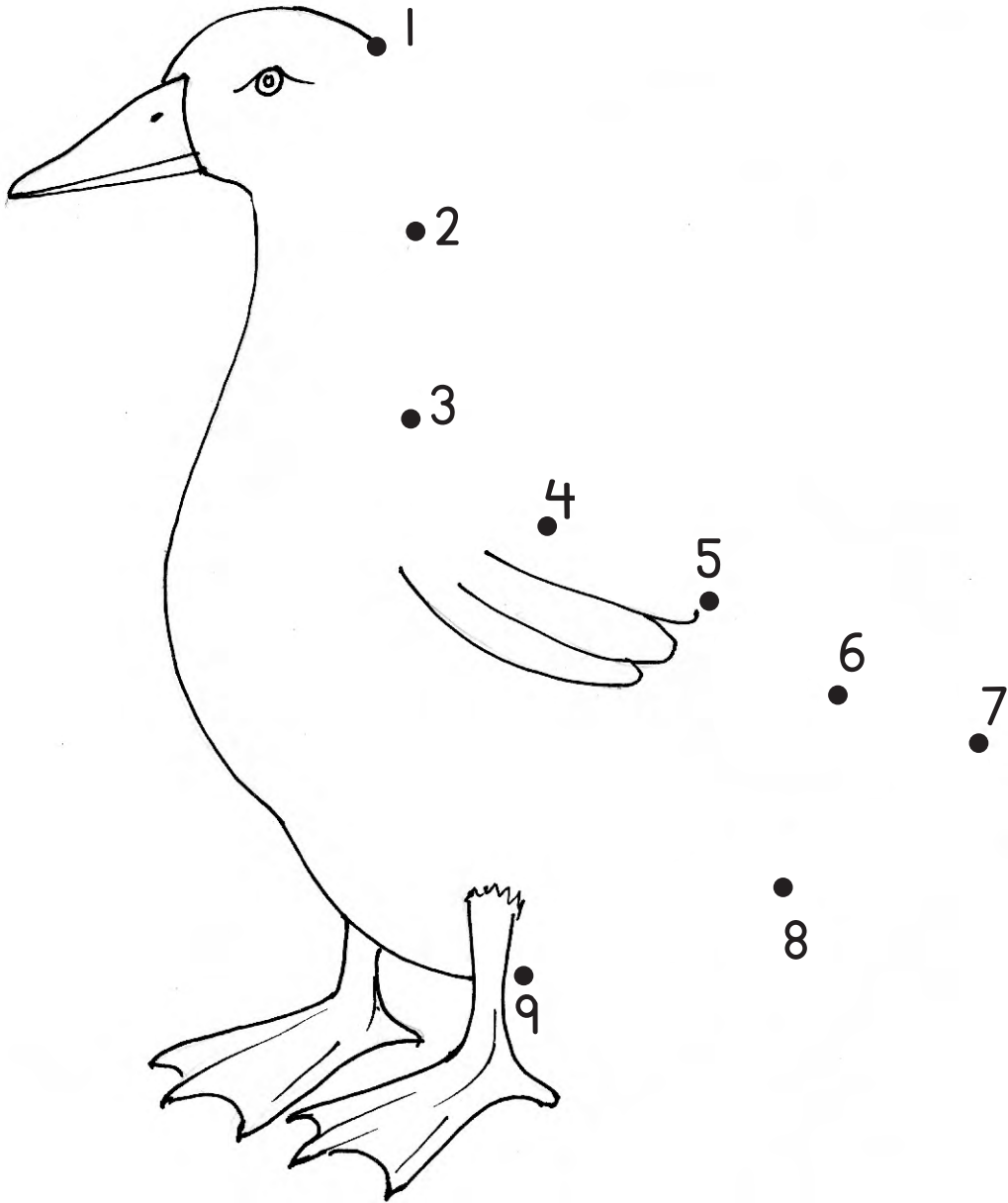
$$\begin{array}{r} 6 \\ - 4 \\ \hline \\ \hline \end{array}$$

$$\begin{array}{r} 9 \\ - 3 \\ \hline \\ \hline \end{array}$$


دستخط _____



صحیح ترتیب میں نمبر ملا کر تصویر مکمل کریں۔





	دہائی	اکائی
		1
		2
		3
		4
		5
		6
		7
		8
		9
		0

[illegible]

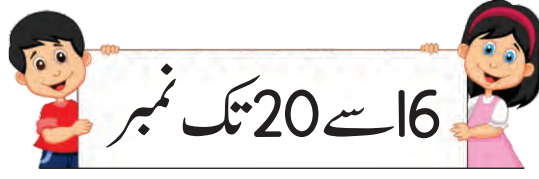


تینکے گنیں اور اکائیاں اور دہائیاں پڑھیں۔

نمبر	اکائی	دہائی	تینکے
10	0	1	
11	1	1	
12	2	1	
13	3	1	
14	4	1	
15	5	1	

تینکے گنیں اور اکائیاں، دہائیاں اور نمبر لکھیں۔

نمبر	اکائی	دہائی	تینکے

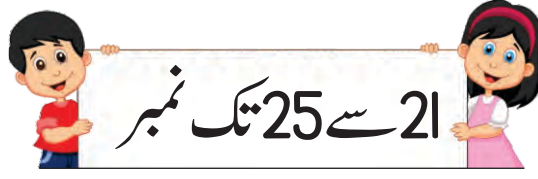


تینے گنیں اور اکائیاں اور دہائیاں پڑھیں۔

نمبر	اکائی	دہائی	تینے
16	6	1	
17	7	1	
18	8	1	
19	9	1	
20	0	2	

تینے گنیں اور اکائیاں، دہائیاں اور نمبر لکھیں۔

نمبر	اکائی	دہائی	تینے
16	6	1	



تینے گنیں اور اکائیاں اور دہائیاں پڑھیں۔

تینے	دہائی	اکائی	نمبر
	2	1	21
	2	2	22
	2	3	23
	2	4	24
	2	5	25

تینے گنیں اور اکائیاں، دہائیاں اور نمبر لکھیں۔

تینے	دہائی	اکائی	نمبر
	2	1	21




تینے گنیں اور اکائیاں اور دہائیاں پڑھیں۔

نمبر	اکائی	دہائی	تینے
26	6	2	
27	7	2	
28	8	2	
29	9	2	
30	0	3	

تینے گنیں اور اکائیاں، دہائیاں اور نمبر لکھیں۔

نمبر	اکائی	دہائی	تینے
28	8	2	



نمبر پڑھیں اور لکھیں۔

	۲۱	اکیس	۱۱	۱۱	گیارہ
	۲۲	بائیس		۱۲	بارہ
	۲۳	تئیس		۱۳	تیرہ
	۲۴	چوبیس		۱۴	چودہ
	۲۵	پچیس		۱۵	پندرہ
	۲۶	چھیس		۱۶	سولہ
	۲۷	ستائیس		۱۷	سترہ
	۲۸	اٹھائیس		۱۸	اٹھارہ
	۲۹	اُنتیس		۱۹	اُنیس
	۳۰	تیس		۲۰	بیس

جائزہ

تاریخ _____

خالی جگہ پر درست نمبر لکھیں۔

7 8 9

9 11

14 16

18 20

25 27

22 24

21 23

26 28

27 29

بڑے نمبر کے گرد دائرہ لگائیں۔

25 , 30

1 , 29

8 , 5

11 , 7

چھوٹے نمبر کے گرد دائرہ لگائیں۔

25 , 19

20 , 30

5 , 7

9 , 11

سوال زبانی جمع کریں اور سامنے درست نمبر لکھیں۔

$$1 + 1 = \square$$

$$1 + 5 = \square$$

$$1 + 2 = \square$$

$$1 + 6 = \square$$

$$1 + 3 = \square$$

$$1 + 7 = \square$$

$$1 + 4 = \square$$

$$1 + 8 = \square$$

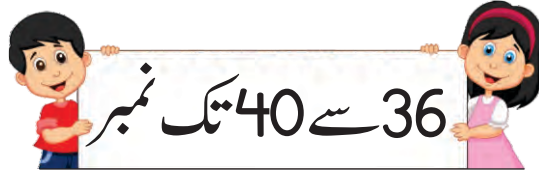


تینے گنیں اور اکائیاں اور دہائیاں پڑھیں۔

نمبر	اکائی	دہائی	تینے
31	1	3	
32	2	3	
33	3	3	
34	4	3	
35	5	3	

تینے گنیں اور اکائیاں، دہائیاں اور نمبر لکھیں۔

نمبر	اکائی	دہائی	تینے
32	2	3	

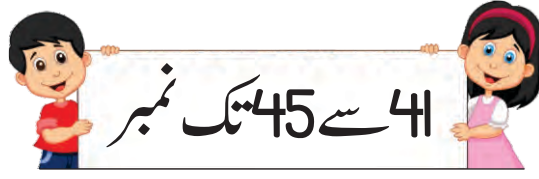


تینے گنیں اور اکائیاں اور دہائیاں پڑھیں۔

نمبر	اکائی	دہائی	تینے
36	6	3	
37	7	3	
38	8	3	
39	9	3	
40	0	4	

تینے گنیں اور اکائیاں، دہائیاں اور نمبر لکھیں۔

نمبر	اکائی	دہائی	تینے
36	6	3	



تینے گنیں اور اکائیاں اور دہائیاں پڑھیں۔

نمبر	اکائی	دہائی	تینے
41	1	4	
42	2	4	
43	3	4	
44	4	4	
45	5	4	

تینے گنیں اور اکائیاں، دہائیاں اور نمبر لکھیں۔

نمبر	اکائی	دہائی	تینے
42	2	4	




تینے گنیں اور اکائیاں اور دہائیاں پڑھیں۔

نمبر	اکائی	دہائی	تینے
46	6	4	
47	7	4	
48	8	4	
49	9	4	
50	0	5	

تینے گنیں اور اکائیاں، دہائیاں اور نمبر لکھیں۔

نمبر	اکائی	دہائی	تینے
47	7	4	



نمبر پڑھیں اور لکھیں۔

	41	اکتالیس		31	اکتیس
	42	پچاس		32	تیس
	43	تینتالیس		33	تینتیس
	44	چوالیس		34	چونتیس
	45	پینتالیس		35	پینتیس
	46	چھیالیس		36	چھتیس
	47	سنتالیس		37	سینتیس
	48	اڑتالیس		38	اڑتیس
	49	انچاس		39	اُنتالیس
	50	پچاس		40	چالیس



تاریخ _____

خالی جگہ میں پچھلا نمبر لکھیں۔

4	5	6	7	☺
__	__	28	29	☺
__	__	34	35	☺
__	__	46	47	☺

خالی جگہ میں اگلا نمبر لکھیں۔

8	9	10	11	☺
15	16	__	__	☺
32	33	__	__	☺
43	44	__	__	☺

بڑے نمبر کے گرد دائرہ لگائیں۔

47, 32	38, 42	16, 19	35, 26
--------	--------	--------	--------

چھوٹے نمبر کے گرد دائرہ لگائیں۔

50, 30	42, 49	11, 15	29, 32
--------	--------	--------	--------

سوال زبانی جمع کریں اور سامنے درست نمبر لکھیں۔

2 + 1 =	□
2 + 2 =	□
2 + 3 =	□
2 + 4 =	□

2 + 5 =	□
2 + 6 =	□
2 + 7 =	□



تینے	نمبر
	10
	20
	30
	40
	50
	60
	70
	80
	90



بنڈل اور تنکے گن کر نمبر لکھیں۔

تینکے	نمبر
	15



تینے گنیں اور اکائیاں اور دہائیاں پڑھیں۔

نمبر	اکائی	دہائی	تینے
51	1	5	
52	2	5	
53	3	5	
54	4	5	
55	5	5	

تینے گنیں اور اکائیاں، دہائیاں اور نمبر لکھیں۔

نمبر	اکائی	دہائی	تینے
53	3	5	



تینے گنیں اور اکائیاں اور دہائیاں پڑھیں۔

نمبر	اکائی	دہائی	تینے
56	6	5	
57	7	5	
58	8	5	
59	9	5	
60	0	6	

تینے گنیں اور اکائیاں، دہائیاں اور نمبر لکھیں۔

نمبر	اکائی	دہائی	تینے
58	8	5	

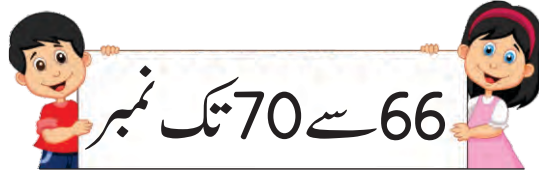


تینے گنیں اور اکائیاں اور دہائیاں پڑھیں۔

نمبر	اکائی	دہائی	تینے
61	1	6	
62	2	6	
63	3	6	
64	4	6	
65	5	6	

تینے گنیں اور اکائیاں، دہائیاں اور نمبر لکھیں۔

نمبر	اکائی	دہائی	تینے
64	4	6	

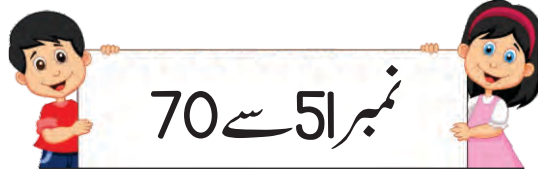


تینے گنیں اور اکائیاں اور دہائیاں پڑھیں۔

نمبر	اکائی	دہائی	تینے
66	6	6	
67	7	6	
68	8	6	
69	9	6	
70	0	7	

تینے گنیں اور اکائیاں، دہائیاں اور نمبر لکھیں۔

نمبر	اکائی	دہائی	تینے
67	7	6	



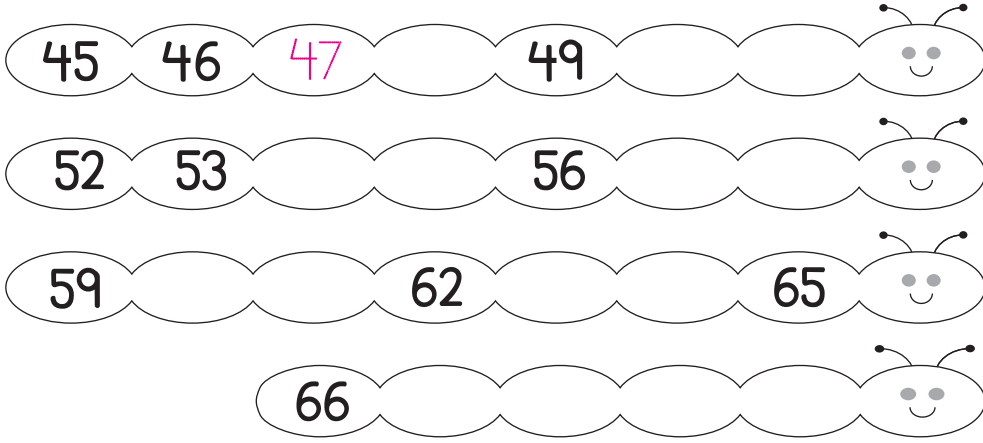
نمبر پڑھیں اور لکھیں۔

	61	اکسٹھ		51	اکیاون
	62	باسٹھ		52	باون
	63	تریسٹھ		53	ترپن
	64	چونسٹھ		54	چوَن
	65	پنیسٹھ		55	پچپن
	66	چھیاسٹھ		56	چھپن
	67	سترسٹھ		57	ستاون
	68	اڑسٹھ		58	اٹھاون
	69	اُنہتر		59	اُنسٹھ
	70	ستر		60	ساٹھ



تاریخ _____

خالی جگہ میں اگلا نمبر لکھیں۔



بڑے نمبر کے گرد دائرہ لگائیں۔



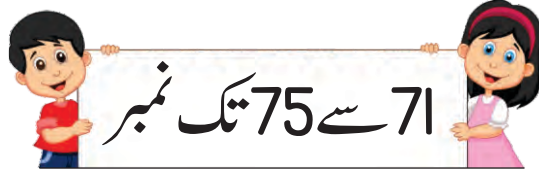
چھوٹے نمبر کے گرد دائرہ لگائیں۔



سوال زبانی جمع کریں اور سامنے درست نمبر لکھیں۔

$$\begin{aligned} 3 + 1 &= \square \\ 3 + 2 &= \square \\ 3 + 3 &= \square \end{aligned}$$

$$\begin{aligned} 3 + 4 &= \square \\ 3 + 5 &= \square \\ 3 + 6 &= \square \end{aligned}$$



تینے گنیں اور اکائیاں اور دہائیاں پڑھیں۔

نمبر	اکائی	دہائی	تینے
71	1	7	
72	2	7	
73	3	7	
74	4	7	
75	5	7	

تینے گنیں اور اکائیاں، دہائیاں اور نمبر لکھیں۔

نمبر	اکائی	دہائی	تینے
75	5	7	



تینے گنیں اور اکائیاں اور دہائیاں پڑھیں۔

نمبر	اکائی	دہائی	تینے
76	6	7	
77	7	7	
78	8	7	
79	9	7	
80	0	8	

تینے گنیں اور اکائیاں، دہائیاں اور نمبر لکھیں۔

نمبر	اکائی	دہائی	تینے
79	9	7	



تینے گنیں اور اکائیاں اور دہائیاں پڑھیں۔

نمبر	اکائی	دہائی	تینے
81	1	8	
82	2	8	
83	3	8	
84	4	8	
85	5	8	

تینے گنیں اور اکائیاں، دہائیاں اور نمبر لکھیں۔

نمبر	اکائی	دہائی	تینے
84	4	8	

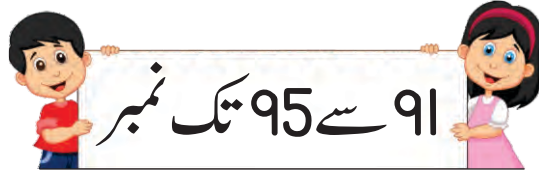


تینے گنیں اور اکائیاں اور دہائیاں پڑھیں۔

نمبر	اکائی	دہائی	تینے
86	6	8	
87	7	8	
88	8	8	
89	9	8	
90	0	9	

تینے گنیں اور اکائیاں، دہائیاں اور نمبر لکھیں۔

نمبر	اکائی	دہائی	تینے
86	6	8	



تینے گنیں اور اکائیاں اور دہائیاں پڑھیں۔

نمبر	اکائی	دہائی	تینے
91	1	9	
92	2	9	
93	3	9	
94	4	9	
95	5	9	

تینے گنیں اور اکائیاں، دہائیاں اور نمبر لکھیں۔

نمبر	اکائی	دہائی	تینے
91	1	9	




تینے گنیں اور اکائیاں اور دہائیاں پڑھیں۔

نمبر	اکائی	دہائی	تینے
96	6	9	
97	7	9	
98	8	9	
99	9	9	

تینے گنیں اور اکائیاں، دہائیاں اور نمبر لکھیں۔

نمبر	اکائی	دہائی	تینے
99	9	9	



نمبر پڑھیں اور لکھیں۔

	۹۱	اکانوی		8۱	اکیاسی		7۱	اکہتر
	۹2	بانوی		82	بیاسی		72	بہتر
	۹3	ترانوی		83	تراسی		73	تہتر
	۹4	چورانوی		84	چوراسی		74	چوہتر
	۹5	پچانوی		85	پچاسی		75	پچہتر
	۹6	چھیانوی		86	چھیاسی		76	چھہتر
	۹7	ستانوی		87	ستاسی		77	ستتر
	۹8	اٹھانوی		88	اٹھاسی		78	اٹھہتر
	۹۹	ننانوی		8۹	نواسی		7۹	اناسی
				۹0	نوے		80	اسی



تاریخ _____

خالی جگہ میں پچھلا نمبر لکھیں۔

45	46	47	
__	62	63	
__	__	89	
__	__	95	

خالی جگہ میں اگلا نمبر لکھیں۔

54	55	56	
72	73	__	
85	86	__	
93	__	__	

بڑے نمبر کے گرد دائرہ لگائیں۔

84 , 82	99 , 98	47 , 49	86 , 96
---------	---------	---------	---------

چھوٹے نمبر کے گرد دائرہ لگائیں۔

85 , 95	99 , 89	65 , 69	71 , 81
---------	---------	---------	---------

سوال زبانی جمع کریں اور سامنے درست نمبر لکھیں۔

$$\begin{aligned} 4 + 1 &= \square \\ 4 + 2 &= \square \\ 4 + 3 &= \square \end{aligned}$$

$$\begin{aligned} 4 + 4 &= \square \\ 4 + 5 &= \square \end{aligned}$$



43		دہائیاں 4	اکائیاں 3
----	--	--------------	--------------

نمبر لکھیں۔

دہائیاں	اکائیاں
3	3
3 3	

دہائیاں	اکائیاں
8	5


دہائیاں	اکائیاں
7	9

دہائیوں اور اکائیوں کی نشاندہی کر کے لکھیں۔

دہائیاں	اکائیاں
2	8
2 8	

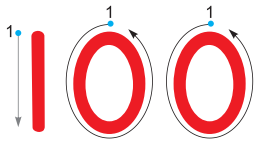
دہائیاں	اکائیاں
6 5	

دہائیاں	اکائیاں
7 0	




نمبر	بنڈل
10	
20	
30	
40	
50	
60	
70	
80	
90	
100	

نقاط ملا کر نمبر لکھیں۔



100 100 100 100

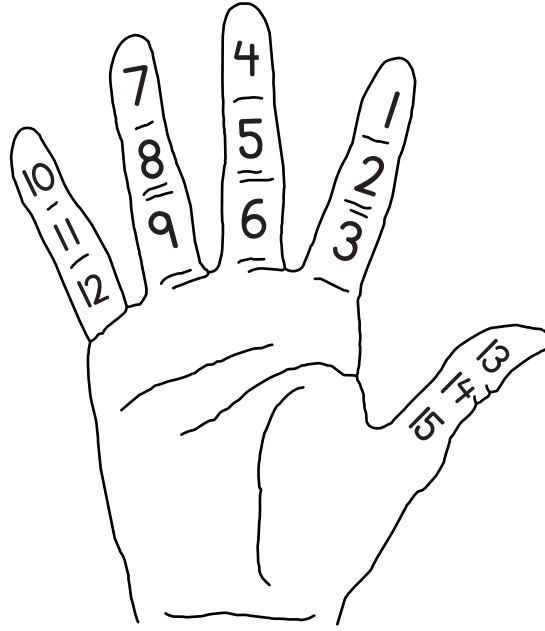


خالی جگہ میں درست نمبر لکھیں۔

1	2	3		5	6		8		10
	12		14		16	17		19	
21		23		25			28		30
	32		34		36	37		39	40
41		43			46	47			
51		53	54		56		58		60
61			64		66	67	68		
71		73		75			78		80
81		83			86			89	90
	92	93			96	97		99	



انگلیوں کی لائینوں کے درمیان لکھے گئے نمبر پڑھیں۔



نیچے دی گئی جگہ پر اپنا ہاتھ بنائیں اور انگلیوں کی لائینوں کے درمیان نمبر لکھیں۔



اُنکیوں پر گن کر جمع کے سوال حل کریں۔


$\begin{array}{r} 2 \\ + 4 \\ \hline 6 \end{array}$	$\begin{array}{r} 3 \\ + 1 \\ \hline \end{array}$	$\begin{array}{r} 4 \\ + 3 \\ \hline \end{array}$	$\begin{array}{r} 5 \\ + 2 \\ \hline \end{array}$	$\begin{array}{r} 6 \\ + 1 \\ \hline \end{array}$
---	---	---	---	---

$\begin{array}{r} 2 \\ + 7 \\ \hline \end{array}$	$\begin{array}{r} 3 \\ + 3 \\ \hline \end{array}$	$\begin{array}{r} 4 \\ + 1 \\ \hline \end{array}$	$\begin{array}{r} 5 \\ + 4 \\ \hline \end{array}$	$\begin{array}{r} 6 \\ + 3 \\ \hline \end{array}$
---	---	---	---	---

اُنکیوں پر گن کر تفریق کے سوال حل کریں۔

$\begin{array}{r} 8 \\ - 2 \\ \hline 6 \end{array}$	$\begin{array}{r} 5 \\ - 1 \\ \hline \end{array}$	$\begin{array}{r} 7 \\ - 3 \\ \hline \end{array}$	$\begin{array}{r} 9 \\ - 4 \\ \hline \end{array}$	$\begin{array}{r} 6 \\ - 5 \\ \hline \end{array}$
---	---	---	---	---

$\begin{array}{r} 8 \\ - 4 \\ \hline \end{array}$	$\begin{array}{r} 5 \\ - 3 \\ \hline \end{array}$	$\begin{array}{r} 4 \\ - 2 \\ \hline \end{array}$	$\begin{array}{r} 9 \\ - 6 \\ \hline \end{array}$	$\begin{array}{r} 7 \\ - 1 \\ \hline \end{array}$
---	---	---	---	---



بنڈل اور تنکے گن کر نمبر جمع کریں۔

دہائیاں	اکائیاں	
2	5	
+	3	
<hr/>		
2	8	
<hr/>		


دہائیاں	اکائیاں	
3	1	
+	4	
<hr/>		
<hr/>		

دہائیاں	اکائیاں	
1	4	
+	5	
<hr/>		
<hr/>		

دہائیاں	اکائیاں	
4	0	
+	2	
<hr/>		
<hr/>		

دہائیاں	اکائیاں	
2	2	
+	7	
<hr/>		
<hr/>		

دہائیاں	اکائیاں	
3	3	
+	5	
<hr/>		
<hr/>		



جمع کے سوالات حل کریں۔

	اکائیاں	دہائیاں
	1	1
+	7	
<hr/>		
<hr/>		

	اکائیاں	دہائیاں
	4	3
+	3	
<hr/>		
<hr/>		

	اکائیاں	دہائیاں
	1	2
+	5	
<hr/>		
<hr/>		

	اکائیاں	دہائیاں
	5	4
+	4	
<hr/>		
<hr/>		


	اکائیاں	دہائیاں
	6	2
+	3	
<hr/>		
<hr/>		

	اکائیاں	دہائیاں
	8	3
+	1	
<hr/>		
<hr/>		

	اکائیاں	دہائیاں
	0	4
+	6	
<hr/>		
<hr/>		

	اکائیاں	دہائیاں
	3	8
+	2	
<hr/>		
<hr/>		

	اکائیاں	دہائیاں
	6	3
+	3	
<hr/>		
<hr/>		



تینکے کاٹ کر تفریق کریں۔

دہائیاں اکائیاں

$$\begin{array}{r} 27 \\ - 2 \\ \hline \end{array}$$

2 5

دہائیاں اکائیاں

$$\begin{array}{r} 35 \\ - 2 \\ \hline \end{array}$$

دہائیاں اکائیاں

$$\begin{array}{r} 19 \\ - 5 \\ \hline \end{array}$$

دہائیاں اکائیاں


$$\begin{array}{r} 36 \\ - 2 \\ \hline \end{array}$$

دہائیاں اکائیاں

$$\begin{array}{r} 26 \\ - 4 \\ \hline \end{array}$$

دہائیاں اکائیاں

$$\begin{array}{r} 33 \\ - 3 \\ \hline \end{array}$$



تفریق کے سوال حل کریں۔

اکائیاں دہائیاں

$$\begin{array}{r} 19 \\ - 3 \\ \hline \\ \hline \end{array}$$

اکائیاں دہائیاں

$$\begin{array}{r} 17 \\ - 4 \\ \hline \\ \hline \end{array}$$

اکائیاں دہائیاں

$$\begin{array}{r} 59 \\ - 8 \\ \hline \\ \hline \end{array}$$

اکائیاں دہائیاں

$$\begin{array}{r} 16 \\ - 5 \\ \hline \\ \hline \end{array}$$

اکائیاں دہائیاں

$$\begin{array}{r} 56 \\ - 4 \\ \hline \\ \hline \end{array}$$

اکائیاں دہائیاں

$$\begin{array}{r} 78 \\ - 2 \\ \hline \\ \hline \end{array}$$

اکائیاں دہائیاں

$$\begin{array}{r} 97 \\ - 3 \\ \hline \\ \hline \end{array}$$

اکائیاں دہائیاں




$$\begin{array}{r} 88 \\ - 8 \\ \hline \\ \hline \end{array}$$



اکائیاں دہائیاں

$$\begin{array}{r} 69 \\ - 5 \\ \hline \\ \hline \end{array}$$





بنڈل گن کر جمع کے سوال حل کریں۔

	دہائیاں	اکائیاں	
	3	0	
+	2	0	
	<hr/> 5	<hr/> 0	

	دہائیاں	اکائیاں	
	4	0	
+	3	0	
	<hr/>	<hr/>	


	دہائیاں	اکائیاں	
	7	0	
+	2	0	
	<hr/>	<hr/>	

	دہائیاں	اکائیاں	
	5	0	
+	4	0	
	<hr/>	<hr/>	




بندل کاٹ کر تفریق کے سوال حل کریں۔

	دہائیاں	اکائیاں
	3	0
—	2	0
	1	0



	دہائیاں	اکائیاں
	5	0
—	2	0




	دہائیاں	اکائیاں
	6	0
—	3	0



	دہائیاں	اکائیاں
	9	0
—	4	0





جمع کے سوال حل کریں۔

$$\begin{array}{r} \text{اکائیاں} \quad \text{دہائیاں} \\ 1 \quad 6 \\ + 1 \quad 3 \\ \hline \\ \hline \end{array}$$

$$\begin{array}{r} \text{اکائیاں} \quad \text{دہائیاں} \\ 2 \quad 5 \\ + 1 \quad 2 \\ \hline \\ \hline \end{array}$$

$$\begin{array}{r} \text{اکائیاں} \quad \text{دہائیاں} \\ 3 \quad 8 \\ + 2 \quad 1 \\ \hline \\ \hline \end{array}$$

$$\begin{array}{r} \text{اکائیاں} \quad \text{دہائیاں} \\ 5 \quad 6 \\ + 3 \quad 0 \\ \hline \\ \hline \end{array}$$


$$\begin{array}{r} \text{اکائیاں} \quad \text{دہائیاں} \\ 4 \quad 2 \\ + 2 \quad 6 \\ \hline \\ \hline \end{array}$$

$$\begin{array}{r} \text{اکائیاں} \quad \text{دہائیاں} \\ 6 \quad 3 \\ + 1 \quad 0 \\ \hline \\ \hline \end{array}$$

$$\begin{array}{r} \text{اکائیاں} \quad \text{دہائیاں} \\ 7 \quad 1 \\ + 2 \quad 6 \\ \hline \\ \hline \end{array}$$

$$\begin{array}{r} \text{اکائیاں} \quad \text{دہائیاں} \\ 4 \quad 0 \\ + 5 \quad 5 \\ \hline \\ \hline \end{array}$$

$$\begin{array}{r} \text{اکائیاں} \quad \text{دہائیاں} \\ 8 \quad 5 \\ + 1 \quad 3 \\ \hline \\ \hline \end{array}$$



تفریق کے سوال حل کریں۔

$$\begin{array}{r} \text{اکائیاں} \quad \text{دہائیاں} \\ 27 \\ - 13 \\ \hline 14 \end{array}$$

$$\begin{array}{r} \text{اکائیاں} \quad \text{دہائیاں} \\ 44 \\ - 23 \\ \hline \end{array}$$

$$\begin{array}{r} \text{اکائیاں} \quad \text{دہائیاں} \\ 23 \\ - 11 \\ \hline \end{array}$$

$$\begin{array}{r} \text{اکائیاں} \quad \text{دہائیاں} \\ 56 \\ - 24 \\ \hline \end{array}$$

$$\begin{array}{r} \text{اکائیاں} \quad \text{دہائیاں} \\ 67 \\ - 35 \\ \hline \end{array}$$

$$\begin{array}{r} \text{اکائیاں} \quad \text{دہائیاں} \\ 64 \\ - 21 \\ \hline \end{array}$$

$$\begin{array}{r} \text{اکائیاں} \quad \text{دہائیاں} \\ 68 \\ - 43 \\ \hline \end{array}$$

$$\begin{array}{r} \text{اکائیاں} \quad \text{دہائیاں} \\ 39 \\ - 24 \\ \hline \end{array}$$

$$\begin{array}{r} \text{اکائیاں} \quad \text{دہائیاں} \\ 72 \\ - 40 \\ \hline \end{array}$$



تاریخ _____

مندرجہ ذیل سوالات حل کریں۔

$$\begin{array}{r} \text{اکائیاں} \quad \text{دہائیاں} \\ 2 \quad 8 \\ + 3 \quad 1 \\ \hline \end{array}$$

$$\begin{array}{r} \text{اکائیاں} \quad \text{دہائیاں} \\ 5 \quad 4 \\ + 1 \quad 5 \\ \hline \end{array}$$

$$\begin{array}{r} \text{اکائیاں} \quad \text{دہائیاں} \\ 3 \quad 7 \\ + 2 \quad 2 \\ \hline \end{array}$$

$$\begin{array}{r} \text{اکائیاں} \quad \text{دہائیاں} \\ 5 \quad 0 \\ + 4 \quad 8 \\ \hline \end{array}$$

$$\begin{array}{r} \text{اکائیاں} \quad \text{دہائیاں} \\ 6 \quad 0 \\ + 3 \quad 0 \\ \hline \end{array}$$

$$\begin{array}{r} \text{اکائیاں} \quad \text{دہائیاں} \\ 4 \quad 7 \\ + 1 \quad 2 \\ \hline \end{array}$$

$$\begin{array}{r} \text{اکائیاں} \quad \text{دہائیاں} \\ 2 \quad 7 \\ - 1 \quad 6 \\ \hline \end{array}$$

$$\begin{array}{r} \text{اکائیاں} \quad \text{دہائیاں} \\ 5 \quad 6 \\ - 3 \quad 3 \\ \hline \end{array}$$

$$\begin{array}{r} \text{اکائیاں} \quad \text{دہائیاں} \\ 6 \quad 0 \\ - 4 \quad 0 \\ \hline \end{array}$$

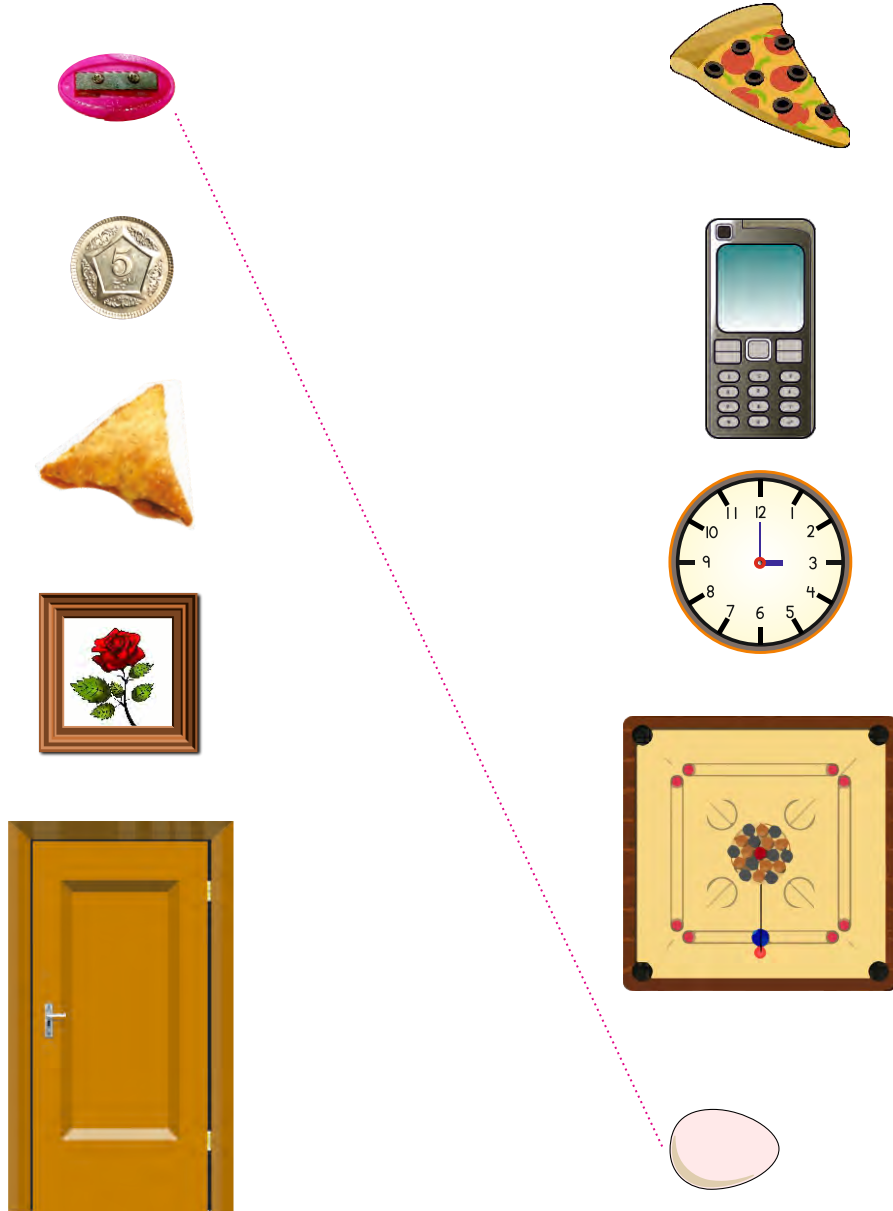
$$\begin{array}{r} \text{اکائیاں} \quad \text{دہائیاں} \\ 3 \quad 4 \\ - 2 \quad 2 \\ \hline \end{array}$$


$$\begin{array}{r} \text{اکائیاں} \quad \text{دہائیاں} \\ 4 \quad 8 \\ - 2 \quad 5 \\ \hline \end{array}$$

$$\begin{array}{r} \text{اکائیاں} \quad \text{دہائیاں} \\ 9 \quad 5 \\ - 8 \quad 2 \\ \hline \end{array}$$




ایک جیسی اشکال کی چیزوں کو آپس میں ملائیں۔

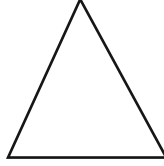





مربع



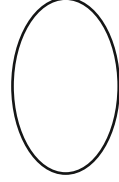
دائرہ



مثلث


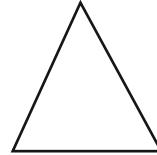
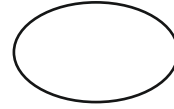
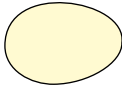


مستطیل



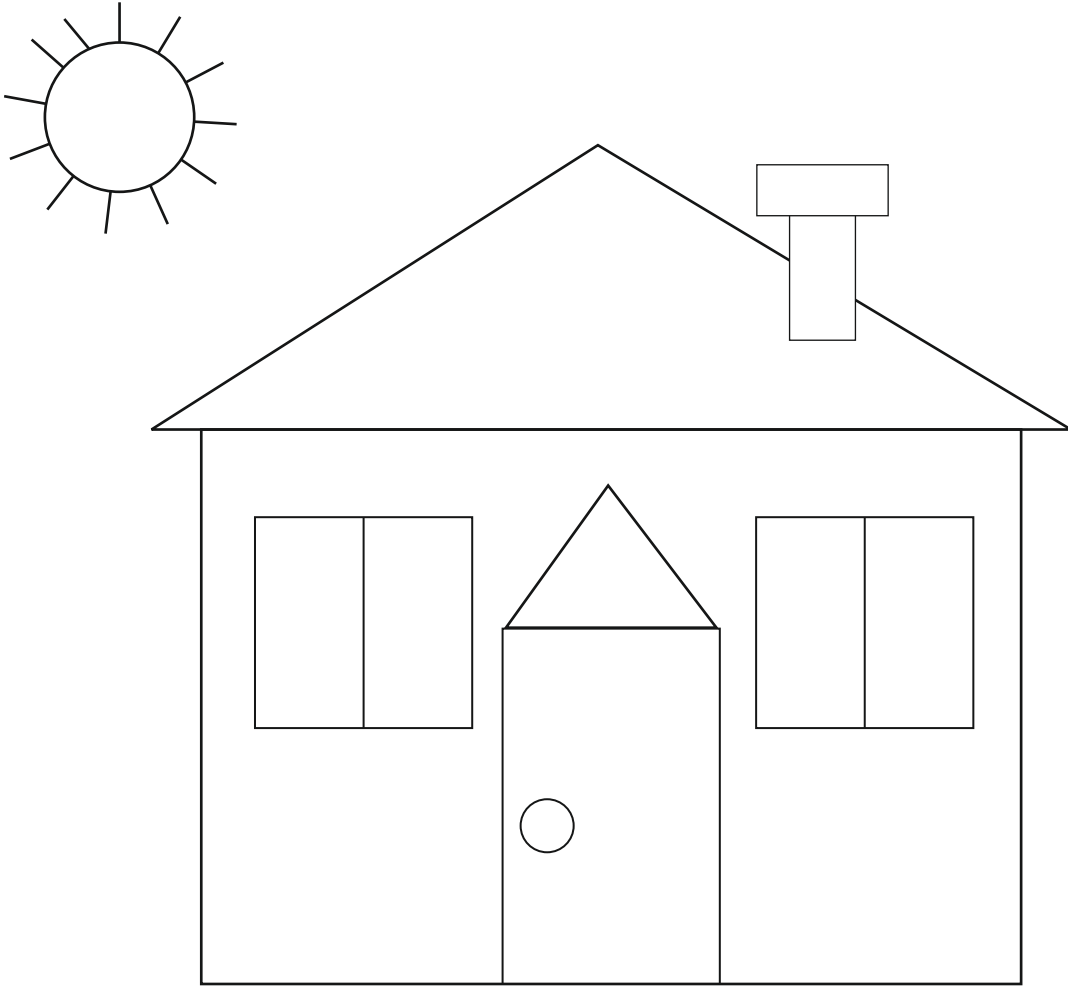
بیضوی

دی گئی چیزوں کو ان کی اشکال سے ملائیں۔



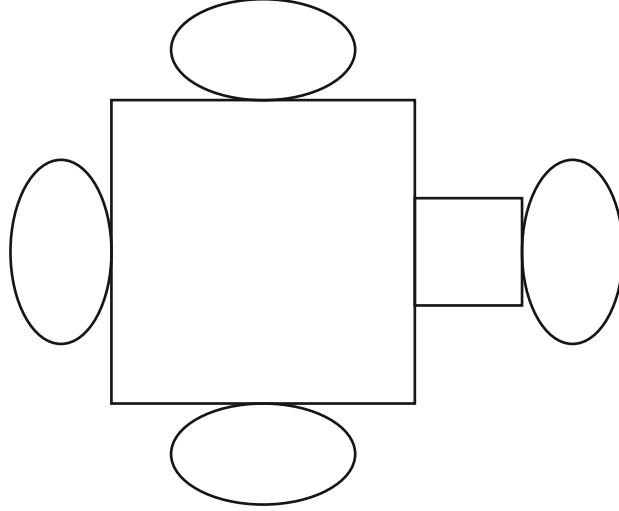


دی گئی تصویر میں دائرے کے اندر سبز رنگ بھریں، مستطیل کے اندر سُرخ رنگ بھریں اور مثلث کے اندر نیلا رنگ بھریں۔

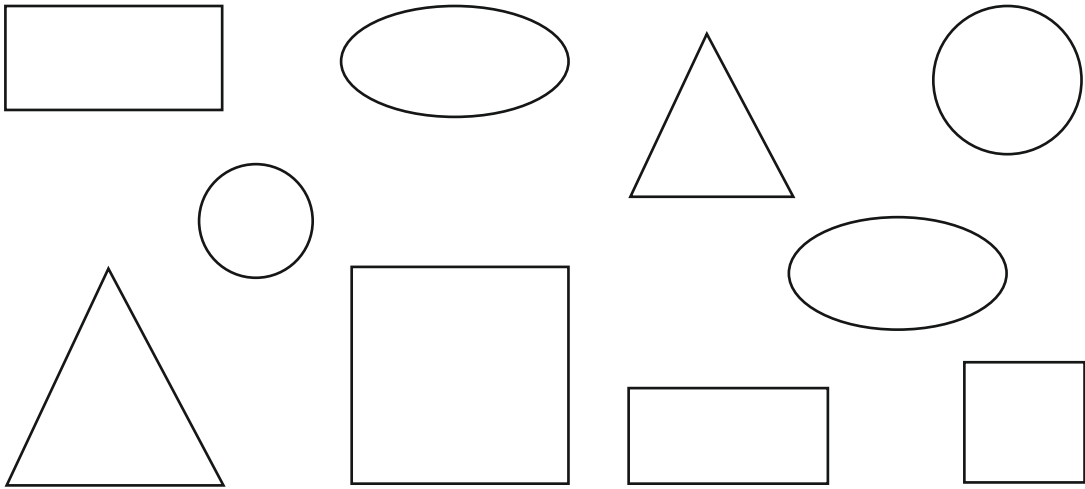


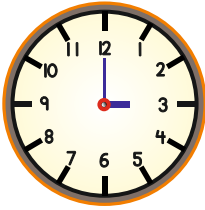
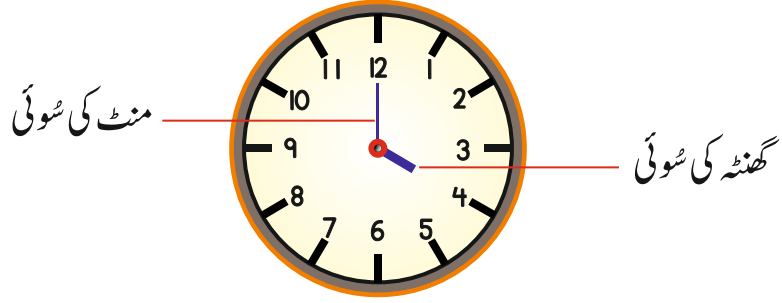


دی گئی تصویر میں مربع کے اندر پیلا رنگ بھریں اور بیضوی کے اندر سرخ رنگ بھریں۔

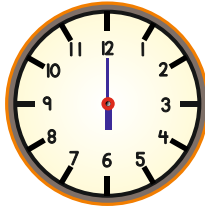


نیچے دی گئی اشکال میں دائرے کے اندر '۱' لکھیں۔ مربع کے اندر '۲' لکھیں۔ مثلث کے اندر '۳' لکھیں۔
مستطیل کے اندر '۴' لکھیں۔ بیضوی کے اندر '۵' لکھیں۔

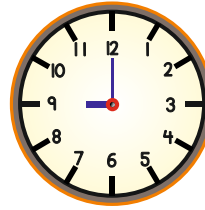




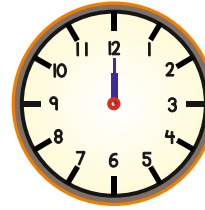
3 بجے



6 بجے



9 بجے

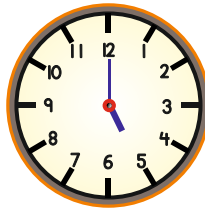


12 بجے

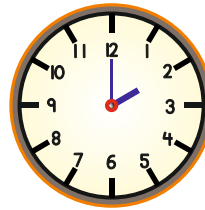
دی گئی گھڑیوں کو صحیح وقت سے ملائیں۔



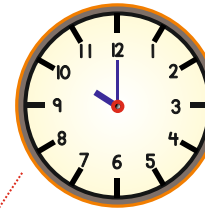
5 بجے




8 بجے



10 بجے



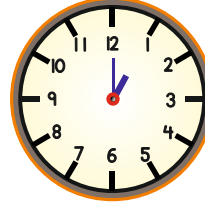
2 بجے



گھڑی دیکھ کر صحیح وقت لکھیں۔



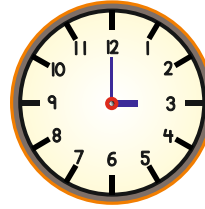
بجے _____



بجے _____



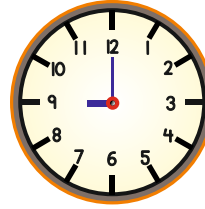
بجے _____



بجے _____



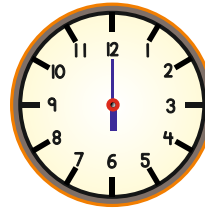
بجے _____



بجے _____



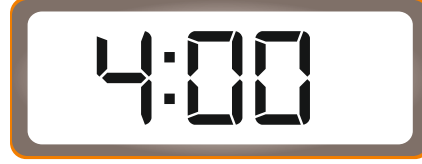
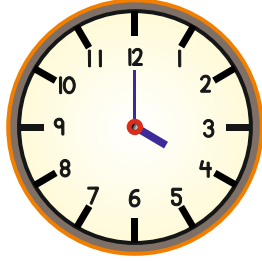
بجے _____



بجے _____



گھڑی دیکھ کر صحیح وقت پڑھیں۔



بجے 5



بجے 7



بجے 8

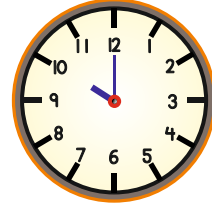
گھڑی دیکھ کر وقت لکھیں اور ڈیجیٹل کلاک سے ملائیں۔



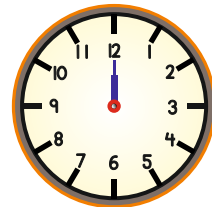
بجے 2



بجے



بجے





دنوں کے نام پڑھیں۔





نوٹ اور سکے دیکھ کر اُن کی مالیت پڑھیں۔



۱ روپیہ



2 روپے



5 روپے



10 روپے



20 روپے


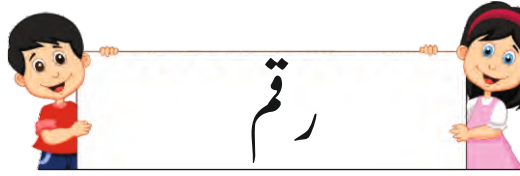


50 روپے



100 روپے





ایک جیسی مالیت والی رقم کو آپس میں ملائیں۔



چیزوں کی قیمت دیکھیں اور اگر سامنے دی گئی رقم میں چیزیں خریدی جاسکتی ہیں تو (✓) کا نشان لگائیں۔

 <p>20 روپے</p>	<input checked="" type="checkbox"/> 
 <p>70 روپے</p>	<input type="checkbox"/> 
 <p>30 روپے</p>	<input type="checkbox"/> 
 <p>50 روپے</p>	<input type="checkbox"/> 
 <p>100 روپے</p>	<input type="checkbox"/> 